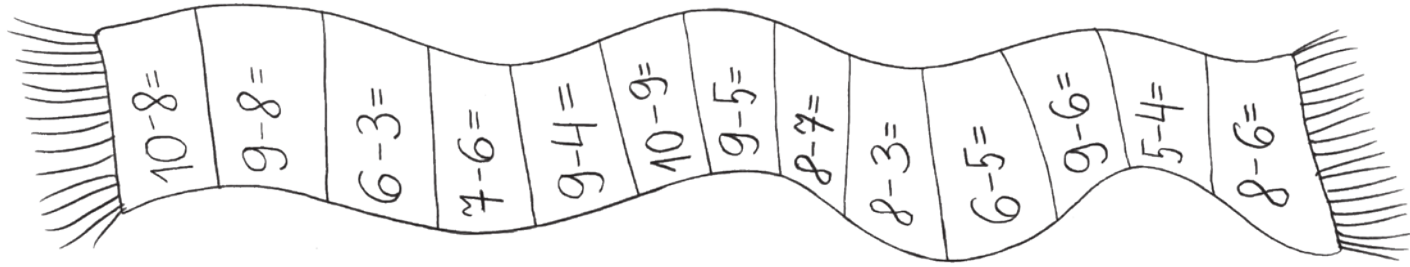


LIITMINE JA LAHUTAMINE 20 PIRES

1 Arvuta. Värvige vastused.
1 – kollane, 2 – sinine, 3 – valge, 4 – punane, 5 – roheline.



Arvuta. Loe jutukest koos vastustega.



Lotte ärkas hommikul üles kell $13 - 6 = \underline{\quad}$

Ta hõõrus $15 - 9 = \underline{\quad}$ korda oma nina külma veega ja jooksis siis kööki.

Laul oli $17 - 6 = \underline{\quad}$ pannkooki.

Emapani $8 - 6 = \underline{\quad}$ lusikatäit moosi pannkookide vahele.

Lotte keeras $11 - 9 = \underline{\quad}$ pannkooki rulli.

Nüüd võis päev alata.

Mis on Leiutajateküla tarkusetera? Arvuta.

$12 + 3 = 15$ (P)	$10 + 10 =$ ()	$16 + 2 =$ ()
$14 - 2 =$ ()	$19 - 6 =$ ()	$19 - 10 =$ ()
$20 - 10 =$ ()	$18 - 4 =$ ()	$10 - 1 =$ ()
$14 - 4 =$ ()	$15 + 2 =$ ()	$17 - 4 =$ ()
$19 - 8 =$ ()	$12 + 7 =$ ()	
$15 + 3 =$ ()		
$12 + 4 =$ ()		
$10 + 3 =$ ()		

9	10	11	12	13	14	15	16	17	18	19	20
K	O	V	R	A	S	P	D	U	I	B	T

Kirjuta see tarkusetera siia.



Kontrolli Alberti tööd. Kuidas sa tema tööd hindad?
Vali sobiv lause ja värvige see.

Kõik on õige!

Harjutamine teeb meistriks!

Pead veel harjutama!

$19 - 10 = 9$	$16 - 7 = 9$
$14 - 9 = 5$	$20 - 9 = 11$
$13 - 6 = 6$	$18 - 9 = 4$

Jätka.

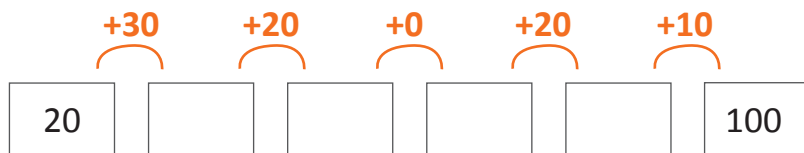
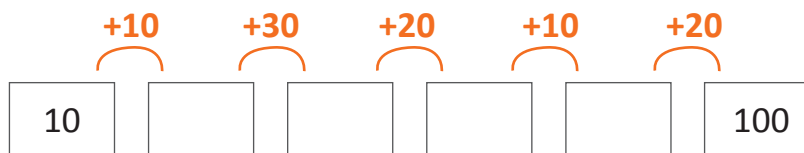


LIITMINE TÄISKÜMNETEGA

1 Jätka arvurida kasvavas või kahanevas järjekorras. Võrdle oma tööd naabriga.

30	40				
10			40		
50					100
90	80			50	
60		40			
70				30	
		60			

2 Liidame täiskümneid.



Uurisin koos Bruno ja Albertiga loomade rahvapäraseid nimetusi. Leidsime palju huvitavaid sõnu.

	JÄNES	KARU	PÕDER	REBANE	METSKITS	HUNT
	haaviku-emand, tuttsaba	laaneott, päntajalg	metsa-uhkus	kanavaras	kabris	võsavillem, hallivatimees, metsakutsu
	kikk-kõrv, välejalg, haavikuisand	metsaott, metsasõnn	sarvik	reinu vader	kaber	susi, kriimsilm, sorusaba, metsatöll
	pikk-kõrv, nudisaba	laikäpp, vanaläll		kavalpea	hirves	metsapeni, lambavaras



Värvi tabelis nii palju ruute, kui on looma rahvapäraseid nimetusi. Mina juba alustasin, sina jätkka.

10						
9						
8						
7						
6						
5						
4						
3						
2						
1						
	JÄNES	KARU	PÕDER	REBANE	METSKITS	HUNT



Kõige vähem leidsime me rahvapäraseid nimetusi kohta.

Neid oli



Kõige rohkem leidsime me rahvapäraseid nimetusi kohta.

Neid oli

3 Arvuta.

$10 + \underline{\quad} = 20$

$20 + \underline{\quad} = 40$

$\underline{\quad} + 10 = 50$

$\underline{\quad} + 10 = 30$

$30 + \underline{\quad} = 40$

$\underline{\quad} + 40 = 60$



Jätka.

--	--	--	--	--	--	--	--	--	--	--	--	--	--	--	--	--	--	--	--	--

LIITER



1 Tõmba joon alla sobivale vastusele.

Kõige suurem nõu on 1 liiter / 2 liitrit / 3 liitrit / 5 liitrit / 10 liitrit.

Kõige väiksem nõu on 1 liiter / 2 liitrit / 3 liitrit / 5 liitrit / 10 liitrit.



Mida saab liitrites mõõta?



2 Lotte ja Albert tegid sünnipäevalauale morssi. Selleks nad võtsid 10 liitrit vett ja 2 liitrit mahla. Mitu liitrit morssi nad said?

.....

Vastus.

Peo lõpus oli alles 5 liitrit morssi. Mitu liitrit morssi joodi?

.....

Vastus.

3 Võrdle (>, <, =).

20 l ___ 15 l

6 l ___ 13 l

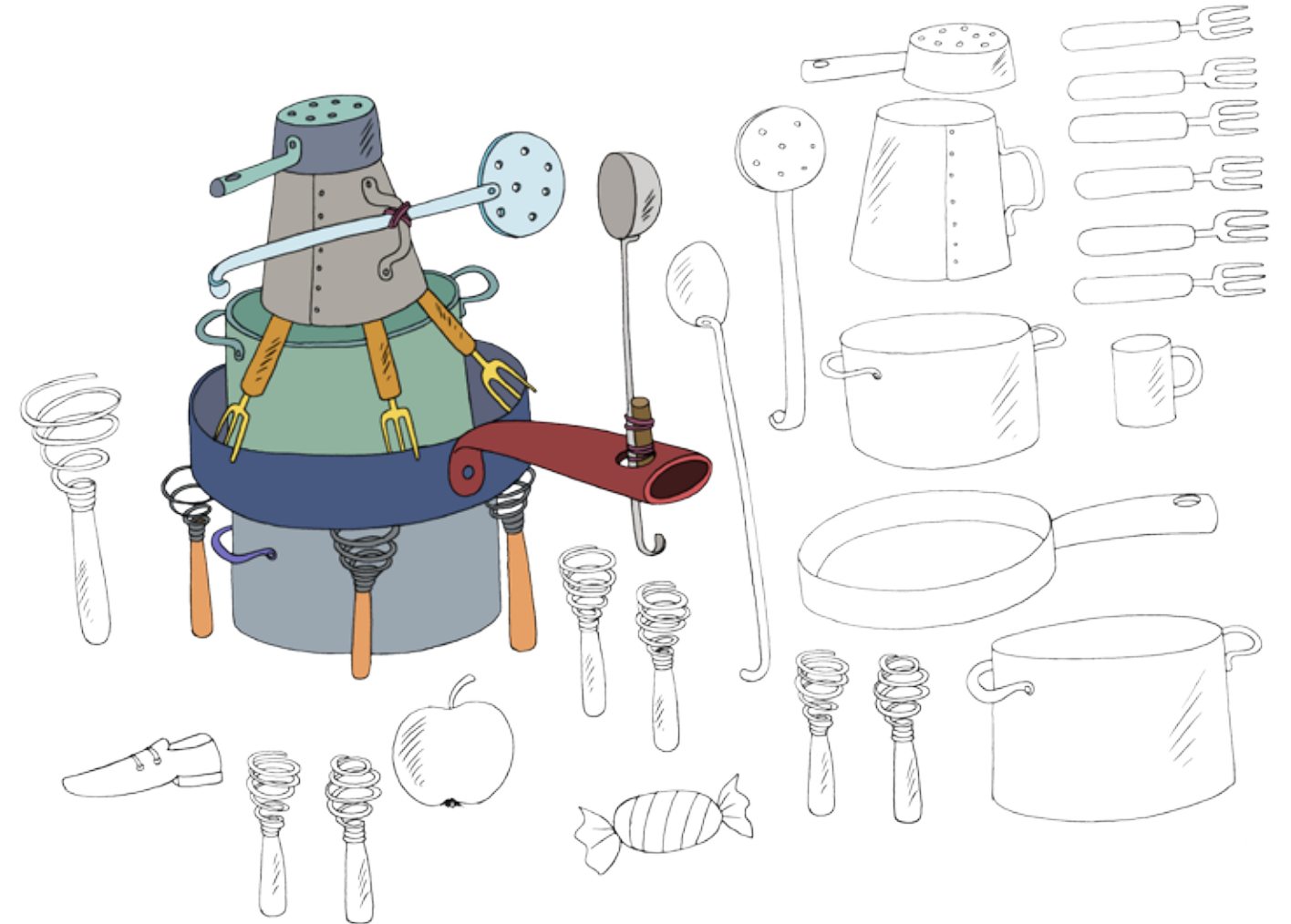
17 l ___ 30 l

18 l ___ 19 l

90 l ___ 50 l

40 l ___ 80 l

4 Millistest osadest on see leiutis ehitatud? Värvi ainult sobivad osad.



Jätka.

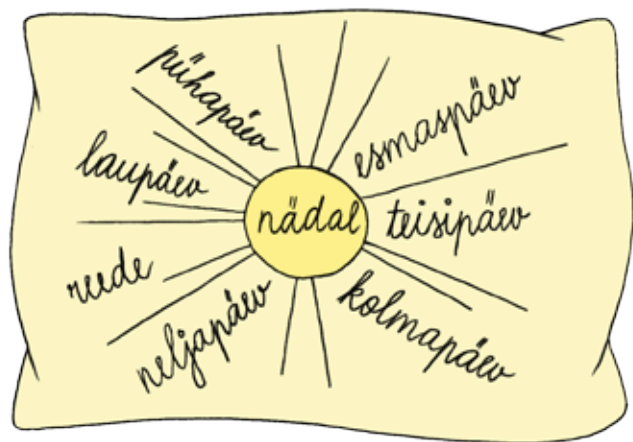


MÕÖDAME VEDELIKE KOGUSEID. Vaata juhendit leheküljel 137.

NÄDAL



Uurime kalendrit.



1 Kirjuta nädalapäevade naabrid.

EILE	TÄNA	HOMME
	kolmapäev	
	esmaspäev	
	pühapäev	
	reede	
	teisipäev	
	laupäev	
	neljapäev	

2 Vaata pilte ja koosta naabrile ülesandeid.



3 Arvuta.

$$\begin{array}{cccc}
 11 - 3 + 5 = ___ & 8 + 4 - 9 = ___ & 16 - 8 + 6 = ___ & 4 + 7 - 3 = ___ \\
 14 - 7 + 8 = ___ & 15 - 6 + 4 = ___ & 9 + 8 - 6 = ___ & 3 + 9 - 5 = ___ \\
 6 + 7 - 6 = ___ & 12 - 0 + 5 = ___ & 5 + 7 - 4 = ___ & 12 - 6 + 7 = ___
 \end{array}$$



Jätka.



NÄDALAS ON 7 PÄEVA.

NEED ON ESMASPÄEV, TEISIPÄEV, KOLMAPÄEV, NELJAPÄEV, REEDE, LAUPÄEV JA PÜHAPÄEV.

1 NÄDAL = 7 PÄEVA



Me oleme juba terve nädala kevade märke otsinud.



Mina tegin selle kohta tabeli.





Uurime koos, mida uut me nädala jooksul tähele panime.

ESMASPÄEV	TEISIPÄEV	KOLMAPÄEV	NELJAPÄEV	REEDE	LAUPÄEV	PÜHAPÄEV
Päike paistab kõrgemalt.	Leidsime lumi-kellukesed.	Õhk lõhnab kevadiselt.	Sipelgapesa „keeb“.	Nägime kuldnokka.	Paiselehed õitsevad.	Kuulsime lõokese laulu.

Mida või keda sina oled märganud? Värv sobivad kastid.

TEE TÖÖD TÖÖ AJAL, AJA JUTTU JUTU AJAL

 Täna on meil külas pääsuke Pääru.



- Mis nädalapäev täna on?
- Mis nädalapäev homme on?
- Mis kuu praegu on?
- Mis kell praegu on?
- Mis kell tunnid algavad?
- Mis aastaag meil praegu on?

2 Võrdle ajaühikuid (kirjuta >, < või =).

- | | |
|-------------------------|---------------------------|
| 1 kuu < 1 aasta | 15 kuud ___ 1 aasta |
| 2 nädalat ___ 5 nädalat | 14 päeva ___ 2 nädalat |
| 1 minut ___ 1 tund | 1 ööpäev ___ 24 tundi |
| 7 päeva ___ 1 nädal | pool tundi ___ 30 minutit |
| 1 aasta ___ 12 kuud | 20 ööpäeva ___ 18 ööpäeva |

3 Jätka rida.



 Ma kirjutasin jutu, milles on 3 hüüdlauseid ja 8 jutustavat lauset.
Mitu lauset on minu jutukeses kokku?

Vastus.
.....

Mida saad veel arvutada?

Ma alustasin jutu kirjutamist kell 12.00.
Ma kirjutasin oma juttu 1 tund.
Mis kell ma jutu kirjutamise lõpetasin?

Vastus.



4 Arvuta.


$15 - 8 + 9 = \underline{\quad}$	$16 - 7 + 5 = \underline{\quad}$	$4 + 9 - 6 = \underline{\quad}$
$12 - 4 + 7 = \underline{\quad}$	$7 + 5 - 8 = \underline{\quad}$	$5 + 8 - 7 = \underline{\quad}$

5 Järjesta ajaühikud. Alusta kõige väiksemast.

nädal, aasta, minut, sekund, kuu, tund, päev, ööpäev



Kirjuta õige kellaaeg. Joonista kellale osutid.



Vahetage pinginaabriga tööd. Võrrelge ja vajadusel parandage.
Kuidas sa oma tööd hindad? Kirjuta joonele.

.....




Jätka.

.....

KES PÜÜAB KÕIGEST VÄEST, SAAB ÜLE IGAST MÄEST

1 Värvi õiget värvi.

Ring – punane, ruut – sinine, ristkülik – roheline, kolmnurk – kollane.



2 Mitu on? Uuri eelmist ülesannet ja liida.

ruudud + ristkülikud

$$3 + 6 = \dots\dots\dots$$

ristkülikud + kolmnurgad

$$\dots\dots\dots + \dots\dots\dots = \dots\dots\dots$$

ringid + ruudud

$$\dots\dots\dots + \dots\dots\dots = \dots\dots\dots$$

ruudud + kolmnurgad

$$\dots\dots\dots + \dots\dots\dots = \dots\dots\dots$$

ringid + ristkülikud

$$\dots\dots\dots + \dots\dots\dots = \dots\dots\dots$$

ringid + ristkülikud + kolmnurgad

$$\dots\dots\dots + \dots\dots\dots + \dots\dots\dots = \dots\dots\dots$$

ruudud + ristkülikud + ringid + kolmnurgad

$$\dots\dots\dots + \dots\dots\dots + \dots\dots\dots + \dots\dots\dots = \dots\dots\dots$$

3 Joonista kujundile teine pool.



RISTSÕNA.
Nuputa leheküljel 133.



4 Arvuta. Värvi lahtrid.

KOLLANE	PUNANE	ROHELINE	PRUUN	SININE
11 - 9 = 2 E	15 - 8 = A	12 - 9 = U	11 - 5 = U	16 - 8 = Ö
12 - 8 = 4 I	14 - 7 = I	4 - 0 = Ö		12 - 7 = Ö
8 - 5 = E	17 - 9 = E	14 - 10 = U		16 - 9 = Ö
9 - 7 = I	13 - 7 = I	9 - 6 = Ö		5 - 3 = Ö
10 - 6 = E	11 - 3 = A			14 - 8 = Ö
7 - 4 = I	12 - 6 = E			9 - 5 = Ö
	18 - 10 = I			3 - 0 = Ö
	7 - 0 = E			
	16 - 10 = A			

A									
E									
I									
O									
U									
Ö									
Ä									
Õ									
Ü									
	1	2	3	4	5	6	7	8	9

Mis kujundid sa said?.....

Mitu neid on?

Mis värvi on kõige suurem kujund?

Mis värvi on kõige väiksem kujund?



Jätka.

