

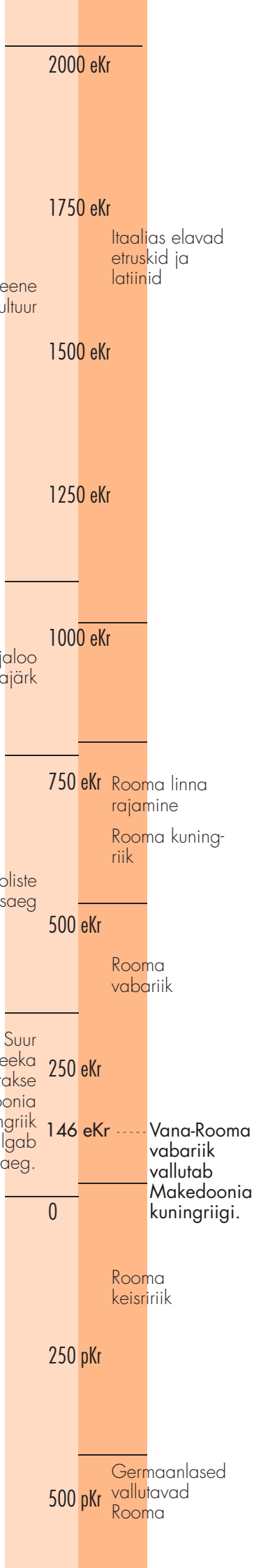
Vana-Kreeka ja Vana-Rooma

Töövihiku I osas liikusime esiajast vanaaega ja õppisime lähemalt Mesopotaamia, Egiptuse, Foiniikia ja Palestiina tsivilisatsioonide kujunemisloo kohta. Käesolevas töövihikus (Kiviajast vanaajani, II osa) saame aga lähemalt teada kahe Euroopa vanaaja kõrgkultuuri – Vana-Kreeka ja Vana-Rooma – kohta.




Mis iseloomustab neid varajasi kultuure, mis asusid maakerä eri paigus? Meenuta varemõpitud ja kirjuta juurde kaks punkti, mis võiksid neid esimesi tsivilisatsioone veel iseloomustada.

- * Kujunesid metalliajal – need rahvad oskasid metalle töödelda.
- * Tunti kirja ja uuriti ümbritsevat maailma. Need rahvad jätsid endast maha kirjandus- ja kunstiteoseid. Me tunneme neid rahvaid ja nende ajalugu kirjalike allikate järgi.
- * Inimeste vahel oli kujunenud tööjaotus ja varanduslik ebavõrdsus.
- *
- *
- *
- *
- *



26. Vana-Kreeka ehk Hellas

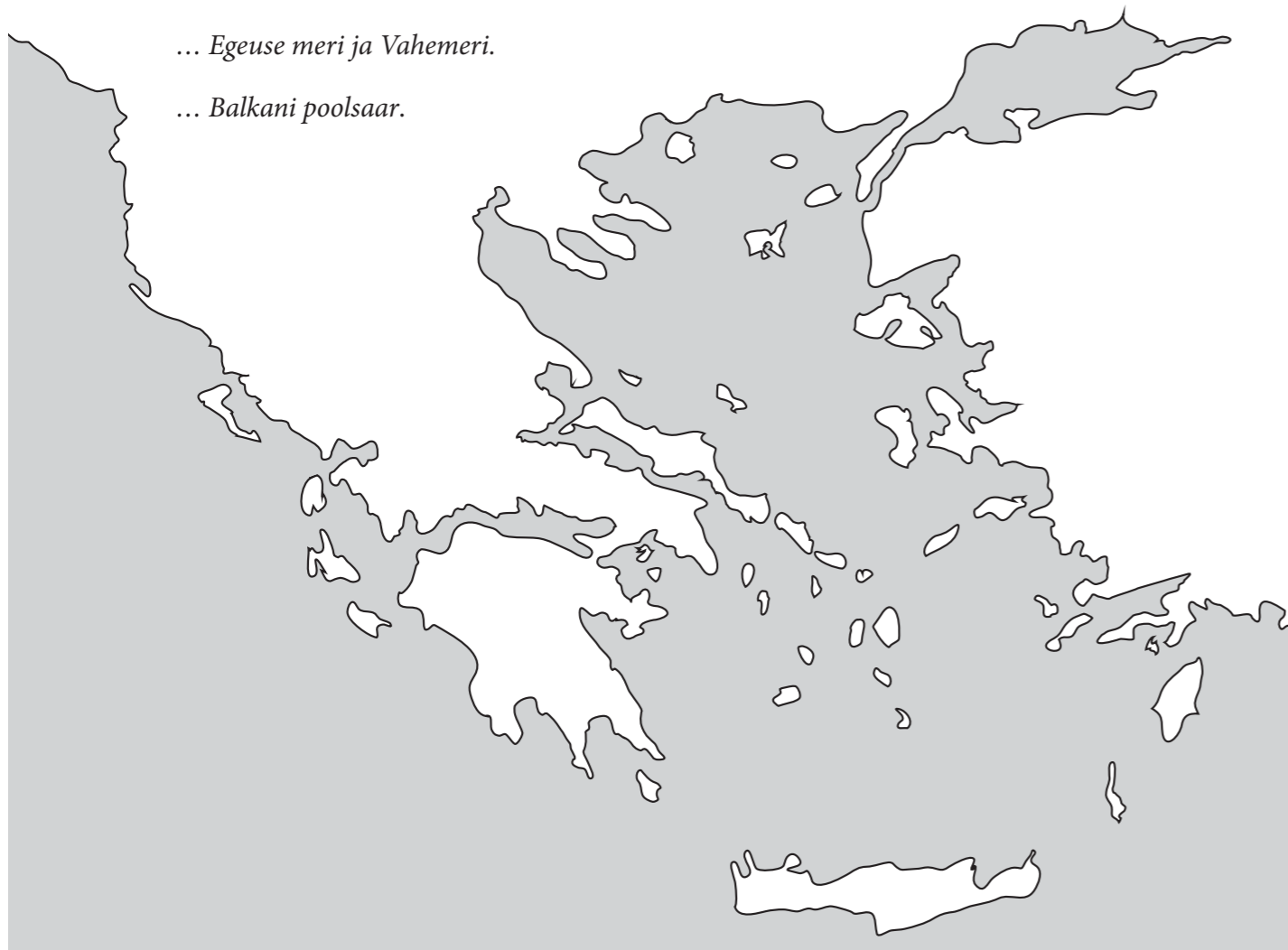
1. Koosta ajatelg. Kanna ajateljele Egiptuse tsivilisatsiooni, Mesopotaamia tsivilisatsiooni (Sumeri linnriigid ja Semiidi rahvaste riigid) ning Kreeka tsivilisatsiooni kestus.



2. Täida kontuurkaart. Kanna kaardile ...

... Egeuse meri ja Vahemeri.

... Balkani poolsaar.



3. Kirjuta faktikasti, ...

... kuidas nimetasid kreeklased endid ja oma kodumaad.

... kuidas kutsusid kreeklased võõramaalasi.

PEAN MEELES!

..... ehk Kreeka.

..... ehk kreeklane.

Võõramaalasi kutsuti

4. Mitmendal sajandil jõudsid kreeklaste esivanemad Balkani poolsaarele? Arvuta, mitu sajandit tagasi see oli.

.....
.....

5. Kuidas mõjutasid looduslikud olud kreeklaste eluviisi? Koosta selle kohta lühijutt, mille kirjutamisel võid kasutada järgmisi abistavaid küsimusi: *Millal Vana-Kreeka kõrgkultuur tekkis? Kas see oli varasem või hilisem võrreldes näiteks Egiptuse tsivilisatsiooniga? Mis oli kreeklaste peamine tegevusala? Miks kreeklased ei harinud põldu? Kas kreeklastel oli ühtne riik?*

(jutu pealkiri)

27. Kreeta – saladuste saar

1. Kanna kontuurkaardile lk 4 Kreeta saar.

2. Mis olid kreetalaste peamised elatusalad?

3. Kust pärines kreetalaste jõukus? Too välja kaks põhjust.

*

*

4. Uuri lisaks ja kirjuta pildi alla õige mütoloogilise olendi nimi.



Vikipeedia artikkel:
Vanakreeka mütoloogia
tegelaste loend.

5. Joonista labürint, mille keskel on Minotauros. Vahetage pinginaabriga labürintid ning kat-
suge leida tee labürintist välja.

6. Miks Kreeta kultuur hävines? Õpikus on esitatud selle kohta kaks teooriat. Kumb tundub
Sinu jaoks usutavam? Põhjenda oma arvamust.

7. Kui kreeklaste esivanemad Balkani poolsaarele jõudsid, oli Kreetal kujunenud juba üks Eu-
roopa varasemaid kõgkkultuure. Milles võtsid kreeklased kreetalastest eeskuju?

Minu märkmed

Õpikus on ülesanne kirju-
tada lühijutt pealkirjaga
„Knossose loss“. Siin on Sul
võimalik teha selle kohta
märkmeid.

